

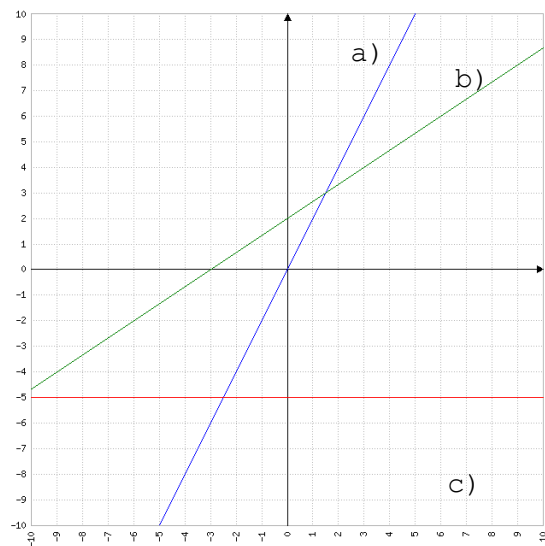
REPASO MATEMÁTICAS TEMA 11. 2º ESO

Nombre y Apellidos: _____

Fecha de entrega: _____

Curso: 2º ESO ____

1. Indica las ecuaciones de las siguientes rectas, e indica su pendiente y ordenada en el origen



a)

b)

c)

2. Indica de las siguientes ecuaciones la pendiente y la ordenada en el origen

a. $y = 3x$


b. $y = \frac{2}{3}x - 2$

c. $y = -\frac{4}{5}x + 3$

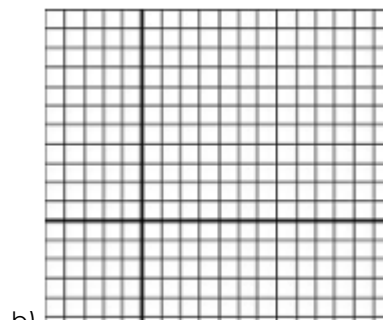
d. $y = 7$

	m	n
a		
b		
c		
d		

3. Dibuja las funciones del ejercicio 2. E indica si son crecientes, decrecientes o constantes



x			
y			




x			
y			


x			
y			

x			
y			

c)



d)



4. De la siguiente función indica los tramos de crecimiento, decrecimiento, máximos y mínimos.

